

1. Dholpur Combined Cycle Power Station is operated by _____
- (A) Neyveli Lignite Corporation India Ltd.
(B) Rajasthan State Mines and Minerals Ltd.
(C) Rajasthan Rajya Vidyut Utpadan Nigam Ltd.
(D) Adani Power Kawai
(E) Question not attempted

धौलपुर कंबाईंड साइकिल पावर स्टेशन निम्नलिखित में से किसके द्वारा संचालित है ?

- (A) नेवेली लिग्नाइट निगम भारत लिमिटेड
(B) राजस्थान राज्य खदान और खनिज लिमिटेड
(C) राजस्थान राज्य विद्युत उत्पादन निगम लिमिटेड
(D) अदानी पावर कवाई
(E) अनुत्तरित प्रश्न

2. Who has been appointed as the first woman High Commissioner to India by Britain ?

- (A) Lilly Gunasekar (B) Gill Atkinson (C) Alicia Herbert
(D) Lindy Cameron (E) Question not attempted

ब्रिटेन द्वारा भारत में किस प्रथम महिला को उच्चायुक्त नियुक्त किया गया ?

- (A) लिली गुनासेकर (B) गिल एटकिंसन (C) एलिसिया हरबर्ट
(D) लिंडी कैमरून (E) अनुत्तरित प्रश्न

3. Given below are two statements :

Statement (I) : First Prime Minister of India wished to achieve the objectives of Foreign Policy through the strategy of non-alignment.

Statement (II) : India was never trying to convince the other developing countries about the policy of non-alignment.

In the light of the above statements, choose the most appropriate answer from the options given below.

- (A) Statement (I) is incorrect but Statement (II) is correct.
(B) Both Statement (I) and Statement (II) are correct.
(C) Both Statement (I) and Statement (II) are incorrect.
(D) Statement (I) is correct but Statement (II) is incorrect.
(E) Question not attempted

नीचे दो कथन दिए गए हैं :

कथन (I) : भारत के प्रथम प्रधानमंत्री विदेश नीति के उद्देश्यों को गुटनिरपेक्षता नीति के माध्यम से हासिल करना चाहते थे।

कथन (II) : गुटनिरपेक्षता की नीति के बारे में अन्य विकासशील देशों को सहमत कराने के लिए भारत ने कभी भी प्रयास नहीं किया। उपरोक्त कथनों के आलोक में, नीचे दिए गए विकल्पों में से सबसे उपयुक्त उत्तर चुनें।

- (A) कथन (I) गलत है, लेकिन कथन (II) सही है।
(B) कथन (I) और कथन (II) दोनों सही हैं।
(C) कथन (I) और कथन (II) दोनों गलत हैं।
(D) कथन (I) सही है, लेकिन कथन (II) गलत है।
(E) अनुत्तरित प्रश्न

4. Who is the author of song 'Dharti Dhoran Ri' ?

- (A) Kanhaiya Lal Sethia (B) Vijaydan Detha (C) Allah Jilai Bai
(D) Gavari Devi (E) Question not attempted

'धरती धोरां रि' गाने के गीतकार (लेखक) कौन हैं ?

- (A) कन्हैयालाल सेठिया (B) विजयदान डेथा (C) अल्लाह जिलाई बाई
(D) गावरी देवी (E) अनुत्तरित प्रश्न

5. Which of the following is a type of computer network ?
 (A) RING (B) BUS (C) STAR
 (D) PAN (E) Question not attempted

- निम्नलिखित में से कौन सा कम्प्यूटर नेटवर्क का एक प्रकार है ?
 (A) आर आई एन जो (RING) (B) बी यू एस (BUS) (C) एस डी ए आर (STAR)
 (D) पी ए एन (PAN) (E) अनुत्तरित प्रश्न

6. Given below are two statements:
 Statement (I): Veer Savarkar formed an organization named 'Mitra Mela' during the partition of Bengal with his companions and made a bonfire of imported clothes.
 Statement (II): British government had imposed a ban on Veer Savarkar's book, "The Indian War of Independence" before it could be published.

- In the light of the above statements, choose the most appropriate answer from the options given below.
 (A) Statement (I) is false but Statement (II) is true.
 (B) Both Statement (I) and Statement (II) are true.
 (C) Both Statement (I) and Statement (II) are false.
 (D) Statement (I) is true but Statement (II) is false.
 (E) Question not attempted

नीचे दो कथन दिए गए हैं :

कथन (I): वीर सावरकर ने 'मित्र मेला', नामक संगठन बनाया और बंगाल विभाजन के दौरान अपने साथियों के साथ मिलकर विदेशी कपड़ों की होली जलायी।

कथन (II): ब्रिटिश सरकार ने वीर सावरकर की पुस्तक, 'द इंडियन वार ऑफ इंडिपेंडेंस' के प्रकाशन से पहले ही उस पर प्रतिबंध लगा दिया।

उपरोक्त कथनों के आलोक में, नीचे दिए गए विकल्पों में से सबसे उपयुक्त उत्तर चुनें।

- (A) कथन (I) गलत है, लेकिन कथन (II) सत्य है।
 (B) कथन (I) और कथन (II) दोनों ही सत्य हैं।
 (C) कथन (I) और कथन (II) दोनों गलत हैं।
 (D) कथन (I) सत्य है, लेकिन कथन (II) गलत है।
 (E) अनुत्तरित प्रश्न

7. A, B, C, D, E, F, G and H are eight friends sitting around a circle facing towards the centre, not necessarily in same order. H is on the immediate left of A but H is not the neighbour of E or D. F is on the immediate right of B and G is the neighbour of E. C is between E and F. What is the position of G ?

- (A) Immediate right of D (B) Second to the right of F (C) Third to the right of F
 (D) Immediate right of A (E) Question not attempted

A, B, C, D, E, F, G और H आठ मित्र, एक वृत्त के चारों ओर केन्द्र की तरफ मुँह किए बैठे हैं, आवश्यक रूप से इसी क्रम में नहीं। H, A के ठीक बाईं ओर है लेकिन H, E या D के बगल में नहीं है। F, B के ठीक दाईं ओर है और G का पड़ोसी E है। C, E और F के मध्य है। तब G की स्थिति क्या है ?

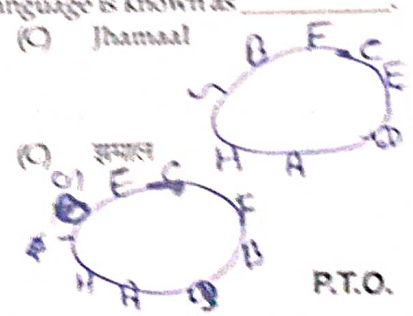
- (A) D के ठीक दाईं ओर (B) F के दाईं ओर से दूसरा (C) F के दाईं ओर से तीसरा
 (D) A के ठीक दाईं ओर (E) अनुत्तरित प्रश्न

8. The life history of the saints which is available in poetry form in Rajasthani language is known as _____.

- (A) Parchi (B) Vaat (C) Jhamaal
 (D) Jhootna (E) Question not attempted

राजस्थानी भाषा में उपलब्ध कविता में संतों के जीवन वृत्तों को क्या कहा जाता है ?

- (A) परची (B) वात (C) अनुत्तरित प्रश्न
 (D) झूटना



P.T.O.

9. 'Anti-Drack Movement', in Andhra State was a movement against :
(Choose the most appropriate option from below)

- (A) Industries (B) Poor condition of farmers (C) Alcoholism
(D) Agriculture (E) Question not attempted

'कड़ी विरोधी आंदोलन', आंध्र प्रदेश में _____ के विरुद्ध आन्दोलन था।

(निम्न में से सबसे उपयुक्त विकल्प चुनें)

- (A) उद्योग (B) किसानों की दयनीय दशा (C) शराबीपन
(D) कृषि (E) अनुत्तरित प्रश्न

10. Which place of Sikar area is famous for gota industry ?

(Choose the most appropriate option from below)

- (A) Nechwa (B) Khood (C) Piprali
(D) Khandela (E) Question not attempted

सीकर के इलाके में कौन सा स्थान गोंटा उद्योग हेतु प्रसिद्ध है ?

(निम्न में से सबसे उपयुक्त विकल्प चुनें)

- (A) निचवा (B) खूर (C) पिपरली
(D) खानदेल (E) अनुत्तरित प्रश्न

11. In which of the following cities of Rajasthan Mahindra World City is located ?

- (A) Udaipur (B) Jaisalmer (C) Jodhpur
(D) Jaipur (E) Question not attempted

महिंद्रा वर्ल्ड सिटी राजस्थान के निम्न में से किस शहर में स्थित है ?

- (A) उदयपुर (B) जैसलमेर (C) जोधपुर
(D) जयपुर (E) अनुत्तरित प्रश्न

12. What is the most appropriate synonym of word "Sociable" ?

- (A) Inhospitable (B) Bankrupt (C) Snob
(D) Friendly (E) Question not attempted

13. Given below are two statements :

Statement (I): Fishing can be done only in freshwater ecosystems.

Statement (II): Fish is a cheap source of animal protein for our food.

In the light of the above statements, choose the most appropriate answer from the options given below.

- (A) Statement (I) is incorrect but Statement (II) is correct.
(B) Both Statement (I) and Statement (II) are correct.
(C) Both Statement (I) and Statement (II) are incorrect.
(D) Statement (I) is correct but Statement (II) is incorrect.
(E) Question not attempted

नीचे दो कथन दिए गए हैं :

कथन (I): मत्स्य पालन केवल स्वच्छ जल पारितंत्र (इकोसिस्टम) में हो सकता है।

कथन (II): मछली हमारे खाने के लिए पशु प्रोटीन का एक सस्ता स्रोत है।

उपरोक्त कथनों के आलोक में, नीचे दिए गए विकल्पों में से सबसे उपयुक्त उत्तर चुनें।

- (A) कथन (I) गलत है लेकिन कथन (II) सही है।
(B) कथन (I) और कथन (II) दोनों सही हैं।
(C) कथन (I) और कथन (II) दोनों ही गलत हैं।
(D) कथन (I) सही है लेकिन कथन (II) गलत है।
(E) अनुत्तरित प्रश्न

14. Psammets, Orthents and Fluvent are sub-orders of which of the following soil type ?
 (A) Alfisols (B) Entisols (C) Inceptisols
 (D) Vertisols (E) Question not attempted
- पराम्येंट्स, ऑर्थेंट्स और फ्लूवेंट निम्नलिखित में से किस मिट्टी के प्रकार के उपवर्ग हैं ?
 (A) अल्फिसोल्स (B) एंटीसोल्स (C) इन्सेप्टिसोल्स
 (D) वर्टिसोल्स (E) अनुत्तरित प्रश्न
15. The Indian Institute of Space Science and Technology (IIST) was established in 2007 at :
 (A) Jodhpur (B) Chennai (C) Thiruvananthapuram
 (D) Vishakhapatnam (E) Question not attempted
- भारतीय अंतरिक्ष विज्ञान और प्रौद्योगिकी संस्थान (आई.आई.एस.टी.) 2007 में कहाँ पर स्थापित किया गया था ?
 (A) जोधपुर (B) चेन्नई (C) तिरुवनंतपुरम
 (D) विशाखापट्टनम (E) अनुत्तरित प्रश्न
16. स्वर संधि के मुख्य भेद कितने होते हैं ?
 (A) सात (B) चार (C) पाँच
 (D) छह (E) अनुत्तरित प्रश्न
17. 'घर का जोगी जोगड़ा, आन गाँव का सिद्ध', लोकोक्ति का अर्थ है :
 (A) गुण के विरुद्ध नाम होना।
 (B) निकट का गुणी व्यक्ति कम सम्मान पाता है, पर दूर का अधिक।
 (C) उच्च और साधारण की तुलना कैसी।
 (D) काम न जानना और बहाना बनाना।
 (E) अनुत्तरित प्रश्न
18. Who has been chosen as the recipient of '41st Lokmanya Tilak Award' ?
 (A) Narendra Modi (B) Dr. K. Siwan (C) Dr. Mayilsamy Annadurai
 (D) Amit Shah (E) Question not attempted
- '41वें लोकमान्य तिलक' पुरस्कार के लिए किसे चुना गया ?
 (A) नरेंद्र मोदी (B) डॉ. के. सिवान (C) डॉ. मयीलसामी अन्नादुरै
 (D) अमित शाह (E) अनुत्तरित प्रश्न
19. इनमें से कौन-सा चिह्न अर्द्ध विराम के लिए प्रयुक्त होता है ?
 (A) - (B) ; (C) :
 (D) , (E) अनुत्तरित प्रश्न
20. If B = 25, SON = 33, then PEN = ?
 यदि B = 25 है, SON = 33, तब PEN दिए गए विकल्पों में से किसके बराबर है ?
 (A) 49 (B) 35 (C) 33
 (D) 46 (E) Question not attempted/अनुत्तरित प्रश्न
21. Periscope works on the principle of :
 (A) scattering of light (B) refraction of light (C) reflection of light
 (D) diffraction of light (E) Question not attempted
- पेरिस्कोप किसके सिद्धांत पर कार्य करता है ?
 (A) प्रकाश प्रकीर्णन (B) प्रकाश अपवर्तन (C) प्रकाश परावर्तन
 (D) प्रकाश विवर्तन (E) अनुत्तरित प्रश्न

22. 'Critical Minerals Summit, 2024' was held in which of the following places ? (C) Surat
 (A) Bhopal (B) New Delhi
 (D) Dhanbad (E) Question not attempted
- निम्नलिखित में से किस स्थान पर 'क्रिटिकल मिनेरल सम्मिट, 2024' आयोजित हुई ? (C) सूरत
 (A) भोपाल (B) नई दिल्ली
 (D) धनबाद (E) अनुत्तरित प्रश्न
23. The ratio of the number of boys and girls in a school is 5 : 6 . If the percentage increase per annum in the number of boys and girls be 20% and 30% respectively, what will be the new ratio after one year ?
 एक स्कूल में लड़कों और लड़कियों की संख्या का अनुपात 5 : 6 है। यदि लड़कों और लड़कियों की संख्या में क्रमशः 20% और 30% की वार्षिक वृद्धि होती है, तो एक वर्ष के बाद नया अनुपात क्या होगा ? (C) 10 : 13
 (A) 11 : 17 (B) 10 : 11
 (D) 11 : 13 (E) Question not attempted/ अनुत्तरित प्रश्न
24. Which of the following trade policies introduced MEIS- Merchandise Export from India Scheme? $\frac{500}{120} = \frac{600}{120}$
 (A) Foreign Trade Policy, 2021-2024 (B) Foreign Trade Policy, 2004-2009
 (C) Foreign Trade Policy, 1991 (D) Foreign Trade Policy, 2015-2020
 (E) Question not attempted
- निम्नलिखित में से किस व्यापार नीति ने MEIS - भारत से वस्तु निर्यात योजना शुरू की ?
 (A) विदेश व्यापार नीति, 2021-2024 (B) विदेश व्यापार नीति, 2004-2009
 (C) विदेश व्यापार नीति, 1991 (D) विदेश व्यापार नीति, 2015-2020
 (E) अनुत्तरित प्रश्न
25. Following is the full form of SLR in Indian Financial System is : (C) State Lenient Rate
 (A) Statutory Liquidity Ratio (B) State Liquidity Rate
 (D) Statutory Low Ratio (E) Question not attempted
- भारतीय वित्तीय प्रणाली में निम्न में से एस एल आर (SLR) का पूर्ण रूप है :
 (A) वैधानिक तरलता अनुपात (B) राज्य तरलता अनुपात (C) राज्य उदार अनुपात
 (D) वैधानिक न्यून अनुपात (E) अनुत्तरित प्रश्न
26. Compute the : Binary Code addition (BCD)
 बाइनरी कोड एडिशन (BCD) संयोजन की गणना करें :
 $2 + 3 = \underline{\quad? \quad}$
 (A) 1111 (B) 0000 (C) 0101
 (D) 1000 (E) Question not attempted/ अनुत्तरित प्रश्न
27. Which of the following was NOT the immediate major challenge of Independent India ?
 (A) Adopted representative democracy
 (B) To accelerate the rate of industrial development.
 (C) Shape a nation that was united
 (D) Development of the society
 (E) Question not attempted
- निम्नलिखित में से, स्वाधीन भारत की, कौन सी तात्कालिक प्रमुख चुनौती नहीं थी ?
 (A) अंगीकृत प्रतिनिधित्व लोकतंत्र
 (B) औद्योगिक विकास की दर को तेज करना
 (C) एक राष्ट्र को आकार देना जो एकता के सूत्र में बँधा हुआ था
 (D) समाज का विकास
 (E) अनुत्तरित प्रश्न

The Vishakhapatnam Industrial Region is famous for which type of industries ?
(Choose the most appropriate option from below)

- (A) Ship building (B) Iron-Steel (C) Automobile
(D) Engineering (E) Question not attempted

विशाखापट्टनम औद्योगिक क्षेत्र किस प्रकार के उद्योगों के लिए प्रसिद्ध है ?
(निम्न में से सबसे उपयुक्त विकल्प चुनें)

- (A) जहाज निर्माण (B) लौह-इस्पात (C) ऑटोमोबाइल
(D) इंजीनियरिंग (E) अनुत्तरित प्रश्न

When was the state of Rajasthan completely unified ?

- (A) 30 November, 1959 (B) 1 November, 1956 (C) 30 November, 1957
(D) 1 November, 1958 (E) Question not attempted

राजस्थान राज्य का पूर्ण एकीकरण कब हुआ ?

- (A) 30 नवंबर, 1959 (B) 1 नवंबर, 1956 (C) 30 नवंबर, 1957
(D) 1 नवंबर, 1958 (E) अनुत्तरित प्रश्न

If '<' means 'minus', '>' means 'plus', '=' means 'multiplied by' and 'S' means 'divided by', then what would be the value of

$$31 > 81 S 9 < 7 \text{ is :}$$

यदि '<' घटा है, '>' जोड़ है, '=' गुणा है और 'S' भाग है तो

$31 > 81 S 9 < 7$ का मान होगा :

- (A) 41 (B) 31 (C) 33
(D) 37 (E) Question not attempted/अनुत्तरित प्रश्न

$$\begin{array}{r} 31 + 81 \div 9 - 7 \\ 31 + 9 - 7 \\ 31 + 2 \\ \hline 33 \end{array}$$

The diameter of a sphere is 8 cm. It is melted and drawn into a wire of diameter 4 mm. The length of the wire is :

एक गोले का व्यास 8 सेमी है। इसे पिघलाकर एक 4 मिमी व्यास के तार में खींचा जाता है, तार की लंबाई होगी :

- (A) $3123 \frac{1}{3}$ cm (B) $1066 \frac{2}{3}$ cm (C) $4266 \frac{2}{3}$ cm
(D) $2133 \frac{1}{3}$ cm (E) Question not attempted/अनुत्तरित प्रश्न

Which of the following tourist centre is not located near Ajmer ?

- (A) Gulab Bagh (B) Taragarh Fort (C) Daulat Bagh
(D) Ana Sagar (E) Question not attempted

निम्नलिखित पर्यटन केंद्रों में से कौन-सा अजमेर के पास स्थित नहीं है ?

- (A) गुलाब बाग (B) तारागढ़ किला (C) दौलत बाग
(D) अनासागर (E) अनुत्तरित प्रश्न

33. Given below are two statements :

Statement (I) : Dadudayal (Kabir of Rajasthan) was born on Phalgun Shukla Navmi in 1542 AD in Dholidub village of Alwar.

Statement (II) : Dadu gave his teachings on Brahma, Jiva, Jagat and Moksha in a simple language (Sadhukkadi).

In the light of the above statements, choose the most appropriate answer from the options given below.

- (A) Statement (I) is incorrect but Statement (II) is correct.
(B) Both Statement (I) and Statement (II) are correct.
(C) Both Statement (I) and Statement (II) are incorrect.
(D) Statement (I) is correct but Statement (II) is incorrect.
(E) Question not attempted

नीचे दो कथन दिए गए हैं :

कथन (I) : दादूदयाल (राजस्थान के कबीर) का जन्म अलवर के धोलीदुब/दोलीदुब गाँव में 1542 AD में फाल्गुन शुक्ल नवमी को हुआ था।

कथन (II) : दादू ने सामान्य भाषा (साधुक्कडी) में ब्रह्म, जीव, जगत और मोक्ष पर अपने उपदेश दिए।

उपरोक्त कथनों के आलोक में, नीचे दिए गए विकल्पों में से सबसे उपयुक्त उत्तर चुनें।

- (A) कथन (I) गलत है, लेकिन कथन (II) सही है।
(B) कथन (I) और कथन (II) दोनों सही हैं।
(C) कथन (I) और कथन (II) दोनों गलत हैं।
(D) कथन (I) सही है, लेकिन कथन (II) गलत है।
(E) अनुत्तरित प्रश्न

34. In the given question a statement followed by two conclusions numbered I and II are given. You have to assume everything in the statement to be true, then consider the two conclusions together and decide which of them logically follows.

Statement : India's economy is depending mainly on forests.

- Conclusions : (I) India wants only maintenance of forests to improve economic conditions.
(II) Trees should be preserved to improve Indian economy.

In the light of the above statements, choose the correct answer from the options given below.

- (A) If only conclusion (II) follows (B) If both (I) and (II) follow
(C) If neither (I) nor (II) follows (D) If only conclusion (I) follows
(E) Question not attempted

दिए गए प्रश्न में, एक कथन और उसके बाद I और II क्रमांकित दो निष्कर्ष दिए गए हैं। आपको कथन में दी गई सभी बातों को सत्य मानना है, फिर दोनों निष्कर्ष पर एक साथ विचार करें और निर्णय लें कि उनमें से कौन तार्किक रूप से अनुसरण करता है।

कथन : भारत की अर्थव्यवस्था मुख्य रूप से वनों पर निर्भर करती है।

- निष्कर्ष : (I) अपनी आर्थिक स्थिति को सुधारने के लिए भारत को केवल अपने वनों का रखरखाव करना है।
(II) पेड़ों का परिरक्षण, भारतीय अर्थव्यवस्था को सुधारने के लिए किया जाना चाहिए।

उपरोक्त कथनों के आलोक में, नीचे दिए गए विकल्पों में से सही उत्तर चुनें।

- (A) केवल निष्कर्ष (II) अनुसरण करता है। (B) (I) और (II) दोनों अनुसरण करते हैं।
(C) ना तो (I) और ना ही (II) अनुसरण करता है। (D) केवल निष्कर्ष (I) अनुसरण करता है।
(E) अनुत्तरित प्रश्न

When an emergency is declared due to the failure of the constitutional machinery in the states. It is invoked under:

- (A) Article 360 (B) Article 350 (C) Article 352
 (D) Article 356 (E) Question not attempted

जब राज्यों में संवैधानिक तंत्र की विफलता के कारण आपातकाल घोषित किया जाता है। यह किस अनुच्छेद से होता है?

- (A) अनुच्छेद 360 (B) अनुच्छेद 350 (C) अनुच्छेद 352
 (D) अनुच्छेद 356 (E) अनुत्तरित प्रश्न

Ankur deposited Rs. 8,000 at simple interest which amounted to Rs. 9,200 after 3 years. Had the annual rate of interest been 3% more, how much amount he would have got?

- (A) Rs. 10,000 (B) Rs. 9,900 (C) Rs. 9,800
 (D) Rs. 9,920 (E) Question not attempted

अंकुर ने 8,000 रुपये साधारण ब्याज पर जमा किए जो कि 3 वर्ष बाद 9,200 रुपये हो गए। यदि वार्षिक ब्याज 3% अधिक होता तो कितनी राशि प्राप्त होती?

- (A) रु. 10,000 (B) रु. 9,900 (C) रु. 9,800
 (D) रु. 9,920 (E) अनुत्तरित प्रश्न

$$\frac{9200}{8000} = \frac{8000 \times 3 \times 3}{100} + 1$$

$$3675 = \frac{72000}{100} + 8000$$

$$3675 = 720 + 8000$$

$$12300 = 8000 \times 3 \times 3$$

$$12300 = 72000$$

$$12300 = 72000$$

37. Which of the following is not a bitwise operator?
 निम्नलिखित में से कौन-सा बिटवाइज ऑपरेटर नहीं है?

- (A) << (B) . (C) &
 (D) >> (E) Question not attempted/ अनुत्तरित प्रश्न

38. The smallest unit of data in computer is _____.

- (A) Bit (B) Nibble (C) KB
 (D) Byte (E) Question not attempted

कम्प्यूटर में आँकड़ों की सबसे छोटी ईकाई _____ है।

- (A) बिट (B) निबल (C) के बी (KB)
 (D) बाइट (E) अनुत्तरित प्रश्न

$$\frac{8000}{9200} = \frac{8000 \times 3 \times 3}{100} + 1$$

$$15.12 = 1$$

$$8000 \times 3 \times 3 = 72000$$

$$72000 = 72000$$

39. The Sankosh Hydel Project is Joint Venture between _____.

- (A) India and Bhutan (B) India and Nepal (C) India and China
 (D) Nepal and Bhutan (E) Question not attempted

संकोश पनबिजली परियोजना किन दो देशों के बीच का संयुक्त उद्यम है?

- (A) भारत और भूटान (B) भारत और नेपाल (C) भारत और चीन
 (D) नेपाल और भूटान (E) अनुत्तरित प्रश्न

40. Match List-I with List-II.

List-I	List-II
Memorials	Place
(a) Jaswant Singh's Thada	(i) Jaisalmer
(b) Chhatris of Rulers and Paliwals	(ii) Bundi
(c) Chaurasi Khambon Ki Chhatri	(iii) Alwar
(d) Fatch Gumbad	(iv) Jodhpur

सूची-I के साथ सूची-II का मिलान कीजिए :

सूची-I	सूची-II
स्मारक	स्थान
(a) जयवंत सिंह का थड़ा	(i) जैसलमेर
(b) शासकों और पालीवालों की छत्रियाँ	(ii) बूंदी
(c) चौतरफा खम्बों की छतरी	(iii) अलवर
(d) फतेह गुम्बद	(iv) जोधपुर

Choose the most appropriate answer from the options given below :

नीचे दिए गए विकल्पों में से सबसे उपयुक्त उत्तर चुनें।

- (A) (a) - (iii), (b) - (ii), (c) - (i), (d) - (iv)
 (B) (a) - (ii), (b) - (iv), (c) - (iii), (d) - (i)
 (C) (a) - (i), (b) - (iii), (c) - (iv), (d) - (ii)
 (D) (a) - (iv), (b) - (i), (c) - (ii), (d) - (iii)
 (E) Question not attempted/अनुत्तरित प्रश्न

41. Given below are two statements :

Statement (I): Rajasthan gets rainfall from the Monsoon of Bay of Bengal and Arabian Sea.

Statement (II): Bay of Bengal Monsoon pass through the Rajasthan without giving much rainfall to it because there is no proper obstruction available in the passage of it.

In the light of the above statements, choose the most appropriate answer from the options given below.

- (A) Statement (I) is incorrect but Statement (II) is correct.
 (B) Both Statement (I) and Statement (II) are correct.
 (C) Both Statement (I) and Statement (II) are incorrect.
 (D) Statement (I) is correct but Statement (II) is incorrect.
 (E) Question not attempted

नीचे दो कथन दिए गए हैं :

कथन (I): बंगाल की खाड़ी और अरब सागर के मानसून से राजस्थान में वर्षा होती है।

कथन (II): बंगाल की खाड़ी का मानसून राजस्थान में बिना अधिक वर्षा किए गुजरता है, क्योंकि इसके गुजरने के मार्ग में किसी प्रकार का व्यवधान नहीं है।

उपरोक्त कथनों के आलोक में, नीचे दिए गए विकल्पों में से सबसे उपयुक्त उत्तर चुनें।

- (A) कथन (I) गलत है, लेकिन कथन (II) सही है।
 (B) कथन (I) और कथन (II) दोनों सही हैं।
 (C) कथन (I) और कथन (II) दोनों गलत हैं।
 (D) कथन (I) सही है, लेकिन कथन (II) गलत है।
 (E) अनुत्तरित प्रश्न

निम्न दो कथन दिए गए हैं :

कथन - (I) : 'ह' वर्ण का उच्चारण स्थान कंठ है।

कथन - (II) : 'ऋ' तथा 'ठ' दोनों वर्णों का उच्चारण स्थान मूर्धा है।

उपरोक्त कथनों के आलोक में निम्नलिखित विकल्पों में से सही उत्तर चुनें :

(A) कथन (I) असत्य है, किन्तु कथन (II) सत्य है।

(B) कथन (I) और (II) दोनों सत्य हैं।

(C) कथन (I) और (II) दोनों असत्य हैं।

(D) कथन (I) सत्य है, किन्तु कथन (II) असत्य है।

(E) अनुत्तरित प्रश्न

Who among the following is the member of the Inter State Council and the Governing Council of Niti Aayog, both?

(A) Speaker of Lok Sabha

(B) President

(C) Chief Minister of States

(D) Governor

(E) Question not attempted

निम्नलिखित में से कौन अंतर राज्य परिषद एवं नीति आयोग की शासकीय परिषद (गवर्निंग काउंसिल) दोनों का सदस्य होता है?

(A) लोकसभा का अध्यक्ष

(B) राष्ट्रपति

(C) राज्यों के मुख्य मंत्री

(D) राज्यपाल

(E) अनुत्तरित प्रश्न

The Council of Ministers of Indian Union is collectively responsible to the :

(A) Lok Sabha

(B) President

(C) Prime Minister

(D) Rajya Sabha

(E) Question not attempted

भारतीय संघ के मंत्री मंडल के सदस्य सामूहिक रूप से किसके प्रति उत्तरदायी होते हैं?

(A) लोकसभा

(B) राष्ट्रपति

(C) प्रधानमंत्री

(D) राज्यसभा

(E) अनुत्तरित प्रश्न

Which of the following is not the alignment of the paragraph in MS-word ?

(A) Before Alignments

(B) Left Alignment

(C) Right Alignment

(D) Justify

(E) Question not attempted

निम्नलिखित में से कौन सा एम.एस.-वर्ड में पैराग्राफ का संरेखण नहीं है?

(A) पूर्व संरेखण

(B) बायाँ संरेखण

(C) दायीँ संरेखण

(D) जस्टिफाई

(E) अनुत्तरित प्रश्न

भारतीय संविधान में 'राजभाषा' शब्द का प्रयोग किस अर्थ में किया गया है?

(A) किसी विशिष्ट राज्य में प्रयुक्त भाषा के रूप में

(B) जनभाषा के रूप में

(C) सम्पर्क भाषा के रूप में

(D) सरकारी कामकाज के लिए प्रयुक्त भाषा के रूप में

(E) अनुत्तरित प्रश्न

Choose the most appropriate preposition from below in the sentence :
India is beset _____ many problems these days.

(A) on

(B) of

(C) to

(D) with

(E) Question not attempted

48. The assertive role played by the judiciary in the protection of the rights of the citizens and in promotion of justice in society by intervening in areas falling within the domain of legislature and executive is called :
 (A) Original Jurisdiction (B) Judicial Activism (C) Judicial Review
 (D) Appellate Jurisdiction (E) Question not attempted
- न्यायपालिका द्वारा नागरिकों के अधिकारों के संरक्षण में निश्चयात्मक भूमिका और विधायी एवं कार्यपालिका के क्षेत्राधिकार में हस्तक्षेप के द्वारा समाज में न्याय के संवर्धन को क्या कहा जाता है ?
 (A) आरंभिक अधिकारिता (B) न्यायिक सक्रियतावाद (C) न्यायिक पुनरीक्षण
 (D) अपीलीय अधिकारिता (E) अनुत्तरित प्रश्न
49. Who was the Chairman of the committee on financial systems in India, which recommended the setting up of Assets Reconstruction Fund (ARF) ?
 (A) Sh. M. Narsimha (B) Dr. Manmohan Singh (C) Sh. P. Chidambaram
 (D) Sh. Pranab Mukherjee (E) Question not attempted
- भारत में वित्तीय प्रणाली पर बनी समिति के अध्यक्ष कौन थे, जिन्होंने परिसंपत्ति के पुनर्निर्माण कोष (ए.आर.एफ.) की स्थापना के सिफारिश की थी ?
 (A) श्री.एम. नरसिम्हा (B) डॉ. मनमोहन सिंह (C) श्री. पी. चिदंबरम
 (D) श्री. प्रणब मुखर्जी (E) अनुत्तरित प्रश्न

Read the passage and answer the questions that follow :

In an often-overwhelming world, staying sane means learning to remember and allowing to forget. Phones wallets, sunglasses, keys, a box of cornflakes, even a ukulele and, once, a gate valve. These are among the things that passengers have forgotten in cabs in 2023, according to Uber India's annual 'Lost and Found Index'. Further insights suggest that Delhi is the most forgetful city in India, that people are most prone to absentmindedness in the evening - from 7 pm to 9 pm - and that the festive days around Diwali tend to make people more distracted than any other time of the year. No doubt this information is amusing, and even useful - one could, for example, learn to be vigilant about one's belongings during the weary, post-work cab ride home. But the real lesson here is that forgetfulness is inevitable.

In *Remember : The Science of Memory and the Art of Forgetting*, the American neuroscientist Lisa Genova explains that "a finely orchestrated balancing act between data storage and data disposal" is key to a well-functioning memory system. In other words, as much as remembering - to turn off the gas, your child's smile when you return from work or that the deadline for filing tax returns is close - is necessary, so is forgetting - your score in Class X boards, the heartbreak of an early love or the time a colleague slighted you. In their own way, both help maintain sanity in an often-overwhelming world. Consider the condition of the titular character in Jorge Luis Borges's story 'Funes the Memorious' whose prodigious memory forced him to note the progress of decay, corruption, fatigue and death and doomed him to be "the solitary and lucid spectator of... an intolerably precise world".

50. According to Lisa Genova, remembering and forgetting data from your memory is necessary because :
 (A) it can make the person happy and contented (B) forgetfulness is inevitable
 (C) this can make the person insane (D) it helps maintain sanity
 (E) Question not attempted
51. The main idea in the write-up is :
 (A) Making us learn that forgetfulness is inevitable.
 (B) Urging us to remember the things
 (C) Allowing us to be forgetful
 (D) Asking us to be more vigilant
 (E) Question not attempted
52. The key to a well-functioning memory system is _____
 (A) to note the progress of decay, fatigue and death.
 (B) very important to survive in an overwhelming world.
 (C) balancing data storage and data disposal.
 (D) reminding to pay taxes, and forget heartbreaks.
 (E) Question not attempted

Word 'precise' means :

(Choose the most appropriate option from below)

- (A) Estimate (B) Vague (C) Abstract
(D) Specific (E) Question not attempted

The pair of autosomes present in human beings are :

मानव जाति में कितने जोड़े कायिक गुणसूत्र (ऑटोसोम्स) होते हैं ?

- (A) 46 (B) 23 (C) 22
(D) 21 (E) Question not attempted/ अनुत्तरित प्रश्न

Pangong Tso and Tso Moriri lakes are formed in which part of Himalayan Range ?

- (A) Darjiling and Sikkim Himalayas (B) Arunachal Himalayas
(C) Himachal and Uttarakhand Himalayas (D) Kashmir Himalayas
(E) Question not attempted

पंगोंग त्सो और त्सो मोरिरी झीलें हिमालय के किस क्षेत्र में स्थित हैं ?

- (A) दार्जिलिंग और सिक्किम हिमालय (B) अरुणाचल हिमालय
(C) हिमाचल और उत्तराखंड हिमालय (D) कश्मीर हिमालय
(E) अनुत्तरित प्रश्न

The Darrah Game Sanctuary was converted as _____.

- (A) Mukundra National Park (B) Keoladeo "Ghana" National Park
(C) Desert National Park (D) Sariska National Park
(E) Question not attempted

दर्राह गेम अभयारण्य को _____ के रूप में परिवर्तित किया गया।

- (A) मुकुंदरा नेशनल पार्क (B) केवलादेव "घाना" नेशनल पार्क
(C) डेजर्ट नेशनल पार्क (D) सरिस्का नेशनल पार्क
(E) अनुत्तरित प्रश्न

इनमें से कौन से व्यंजन संधि के उदाहरण हैं ?

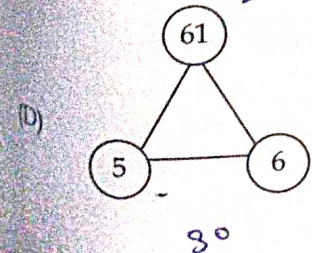
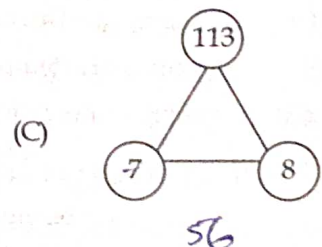
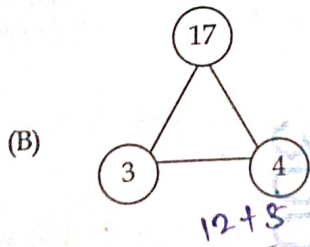
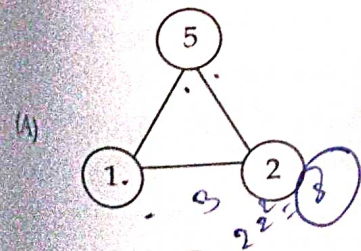
- (a) उल्लास (b) अन्वय (c) अहंकार (d) निष्फल (e) उद्धार

नीचे दिए गए विकल्पों में से सबसे उपयुक्त उत्तर का चयन कीजिए :

- (A) केवल (b), (d) और (e) (B) केवल (a), (b) और (c) (C) केवल (a), (c) और (e)
(D) केवल (c), (d) और (e) (E) अनुत्तरित प्रश्न

Choose the odd one out.

उस चित्र को चुनें जो दूसरों से भिन्न है।



- (E) Question not attempted/ अनुत्तरित प्रश्न

59. An iron rod of uniform thickness of length 5.6 metre weighs 2.4 kg. How much will be the weight of 5 iron rods of the same thickness and each having length of 8.4 m ?

- (A) 18 kg (B) 15 kg (C) 16 kg
(D) 25 kg (E) Question not attempted

एक समान मोटाई की लोहे की छड़ जिसकी लंबाई 5.6 मीटर है का भार 2.4 कि.ग्रा. है, तो 5 समान मोटाई की लोहे की छड़ों का भार कितना होगा, यदि प्रत्येक छड़ की लंबाई 8.4 मीटर है ?

- (A) 18 कि.ग्रा. (B) 15 कि.ग्रा. (C) 16 कि.ग्रा.
(D) 25 कि.ग्रा. (E) अनुत्तरित प्रश्न

$$\begin{array}{r} 2 \\ 5.6 \\ \hline 2.4 \\ 4 \end{array}$$

60. Choose the most appropriate articles for the sentence given below :

But mine is not _____ typical story. In my story _____ Scotsman is generous, _____ Irishman is logical and _____ Englishman is romantic. Oh, if it's _____ fantastic story I'll listen with _____ pleasure.

- (A) _____ ; the, an, an; a _____ (B) a ; a, an, an; a _____
(C) a ; the, the, the; _____ (D) a ; the, the, the; a _____
(E) Question not attempted

61. The total marks obtained by a student in Maths, Science, Social Science and English together is 140 more than the marks obtained by him in Science and Maths. What is the average marks obtained by him in Social Science and English together ?

यदि गणित, विज्ञान, सामाजिक विज्ञान और अंग्रेजी में एक छात्र द्वारा प्राप्त कुल अंक, विज्ञान और गणित में प्राप्त अंकों से 140 अधिक हैं, तो सामाजिक विज्ञान और अंग्रेजी में उसके द्वारा प्राप्त अंकों का औसत क्या है ?

- (A) 50 (B) 75 (C) $70 \frac{M+S+SS+E}{2} =$
(D) 60 (E) Question not attempted/अनुत्तरित प्रश्न

62. Assets Reconstruction Fund (ARF) was set up for the purpose of _____.

(Choose the most appropriate option from below)

- (A) To assist Reserve Bank of India on managing Commercial Banks
(B) To takeover the bad and doubtful debts of Nationalised Banks and Development Finance Institutions
(C) To finance the Commercial Banks on low rate
(D) To finance the Development Finance Institutions on low rates
(E) Question not attempted

परिसंपत्ति पुनर्निर्माण निधि (ARF) की स्थापना _____ को गई थी।

(निम्न में से सबसे उपयुक्त विकल्प चुनें)

- (A) वाणिज्यिक बैंकों के प्रबंधन में भारतीय रिजर्व बैंक की सहायता करने के लिए
(B) राष्ट्रीयकृत बैंकों और विकास वित्त संस्थानों के खराब और संदिग्ध ऋणों को अपने नियंत्रण में लेने के लिए
(C) वाणिज्यिक बैंकों को कम दरों पर वित्त प्रदान करने के लिए
(D) विकास वित्त संस्थानों को कम दरों पर वित्तपोषित करने के लिए
(E) अनुत्तरित प्रश्न

Three resistances of 3 Ω , 4 Ω and 5 Ω are connected in series in a circuit in which a battery of 6V is also connected,

- The potential difference across all the resistances is same.
 The current in each of the resistance is same.
 The equivalent resistance of the combination is 12 Ω .
 The current in the circuit is 0.5 A.

Choose the most appropriate answer from the options given below :

- (a) (b), (c) and (d) (B) (a) and (b) only (C) (c) and (d) only
 (b) (c) and (d) only (B) Question not attempted

निम्नलिखित में तीन प्रतिरोध 3 Ω , 4 Ω एवं 5 Ω श्रृंखला में जुड़े हुए हैं जिसमें एक 6V की बैटरी भी जुड़ी है। ऐसी स्थिति में निम्नलिखित कौन से विकल्प सही है ?
 सभी प्रतिरोधों में विभवान्तर समान है।
 प्रत्येक प्रतिरोध में विद्युतधारा समान है।
 सभी प्रतिरोध का समतुल्य प्रतिरोध 12 Ω है।
 सर्किट में विद्युत धारा प्रवाह 0.5 A है।

- दिए गए विकल्पों में से सबसे उपयुक्त उत्तर चुनें :
- (A) (a), (b), (c) और (d) (B) केवल (a) और (b) (C) केवल (c) और (d)
 (D) केवल (b), (c) और (d) (E) अनुत्तरित प्रश्न

Given below are two statements :

- Statement (I) : Dr. Bhimrao Ambedkar led the Mahad Satyagraha in March 1927 to challenge the regressive customs of the caste Hindus.
 Statement (II) : Dr. Ambedkar established the Bahishkrit Hitkarini Sabha in 1924 to highlight the difficulties and grievances of the dalits before the government.

In the light of the above statements, choose the most appropriate answer from the options given below.

- (A) Statement (I) is incorrect but Statement (II) is correct.
 (B) Both Statement (I) and Statement (II) are correct.
 (C) Both Statement (I) and Statement (II) are incorrect.
 (D) Statement (I) is correct but Statement (II) is incorrect.
 (E) Question not attempted

दो कथन दिए गए हैं :

- कथन (I) : डॉ. भीमराव आम्बेडकर ने मार्च 1927 में हिंदू जाति की प्रतिगामी प्रथाओं को चुनौती देने हेतु महाड सत्याग्रह का नेतृत्व किया।
 कथन (II) : डॉ. आम्बेडकर ने 1924 में सरकार के समक्ष दलितों की कठिनाइयों और शिकायतों को उजागर करने हेतु बहिष्कृत हितकारिणी सभा की स्थापना की।

उपरोक्त कथनों के आलोक में, नीचे दिए गए विकल्पों में से सबसे उपयुक्त उत्तर चुनें।

- (A) कथन (I) गलत है, लेकिन कथन (II) सही है।
 (B) कथन (I) और कथन (II) दोनों सही हैं।
 (C) कथन (I) और कथन (II) दोनों गलत हैं।
 (D) कथन (I) सही है, लेकिन कथन (II) गलत है।
 (E) अनुत्तरित प्रश्न

Which of the following is not an agro-based industry of Rajasthan ?

- (A) Textile Industry (B) Rubber Industry (C) Leather Industry
 (D) Cement Industry (E) Question not attempted

निम्नलिखित में से कौन सा उद्योग राजस्थान के कृषि आधारित उद्योग पर आधारित नहीं है ?
 (A) कपड़ा उद्योग (B) रबर उद्योग (C) चमड़ा उद्योग
 (D) सीमेंट उद्योग (E) अनुत्तरित प्रश्न

66. Who among the following moved the 'Objective Resolutions' in the Constituent Assembly of India ?
- (A) Jawahar Lal Nehru (B) B.N. Rao (C) Rajendra Prasad
(D) B.R. Ambedkar (E) Question not attempted

निम्नलिखित में से किसने भारतीय संविधान सभा में 'उद्देश्य संकल्प' प्रस्तुत किया ?

- (A) जवाहर लाल नेहरू (B) बी.एन. राव (C) राजेंद्र प्रसाद
(D) बी.आर. अम्बेडकर (E) अनुत्तरित प्रश्न

67. 'CAZRI' institute is mainly involved in research of _____.

- (A) Mining of Minerals
(B) Sustainable farming systems in arid ecosystem
(C) Animal Husbandry in Desert
(D) Land reforms
(E) Question not attempted

निम्नलिखित में से किस शोध में 'CAZRI' संस्थान मुख्य रूप से शामिल है ?

- (A) खनिजों का खनन
(B) शुष्क पारिस्थितिकी तंत्र में टिकाऊ कृषि प्रणाली
(C) रेगिस्तान में पशुपालन
(D) भूमि सुधार
(E) अनुत्तरित प्रश्न

68. Which of the following dams of Rajasthan produces Hydroelectric power ?

- (A) Swaroop Sagar Dam (B) Mahi Bajaj Sagar Dam (C) Meja Dam
(D) Jawai Dam (E) Question not attempted

राजस्थान का निम्नलिखित में से कौन सा बांध जलविद्युत शक्ति का उत्पादन करता है ?

- (A) स्वरूप सागर बांध (B) माही बजाज सागर बांध (C) मेजा बांध
(D) जवाई बांध (E) अनुत्तरित प्रश्न

69. Who was called the Father of Indian Renaissance ?

- (A) Keshab Chandra Sen (B) Debendra Nath Tagore (C) Ravindra Nath Tagore
(D) Raja Ram Mohan Roy (E) Question not attempted

भारतीय पुनर्जागरण का जनक किसे कहा गया है ?

- (A) केशव चंद्र सेन (B) देबेन्द्र नाथ टैगोर (C) रवींद्र नाथ टैगोर
(D) राजा राम मोहन राय (E) अनुत्तरित प्रश्न

70. From the options below, choose the most appropriate meaning of the underlined idiom in the given sentence :

Laila's feelings "down in the dumps" is a temporary phase.

- (A) Feeling very sad (B) Poverty (C) Malnutrition
(D) Feeling elated (E) Question not attempted

Given below are two statements :

Statement (I) :

Phosphate rock is mostly used in the manufacture of superphosphate which is utilized as a Nutrient for crops, fruits and flowers.

Statement (II) :

Phosphate rock has been located at Maton, Karbaria-Ka-Gurha, Kanpur, Dakan Kotra and Neemach hill, all the Aravalli formation of the Pre-Cambrian age near Udaipur and Jaisalmer areas.

In the light of the above statements, choose the most appropriate answer from the options given below.

(A) Statement (I) is incorrect but Statement (II) is correct.

(B) Both Statement (I) and Statement (II) are correct.

(C) Both Statement (I) and Statement (II) are incorrect.

(D) Statement (I) is correct but Statement (II) is incorrect.

(E) Question not attempted

नीचे दो कथन दिए गए हैं :

कथन (I) : फॉस्फेट की चट्टानों अधिकांशतः सुपरफॉस्फेट के निर्माण में प्रयोग की जाती हैं, जो कि फसलों, फलों और फूलों के पोषण में प्रयोग होती हैं।

कथन (II) : फॉस्फेट चट्टानें मैटॉन, करबारिया-का-गुरहा, कानपुर, डकन कोटरा और नीमच पहाड़ियों में स्थित हैं। ये सभी उदयपुर और जैसलमेर इलाकों के पास प्री-कैम्ब्रियन युग की अरावली संरचना हैं।

उपरोक्त कथनों के आलोक में, नीचे दिए गए विकल्पों में से सबसे उपयुक्त उत्तर चुनें।

(A) कथन (I) गलत है लेकिन कथन (II) सही है।

(B) कथन (I) और कथन (II) दोनों सही हैं।

(C) कथन (I) और कथन (II) दोनों गलत हैं।

(D) कथन (I) सही है लेकिन कथन (II) गलत है।

(E) अनुत्तरित प्रश्न

72. The poultry feed includes :

(Choose the most appropriate option from below)

(A) Concentrates and maize only

(B) Roughage and concentrates only

(C) Maize and barley only

(D) Maize, barley, pearl-millet etc.

(E) Question not attempted

दुई चरणों में यह शामिल होते हैं :

(निम्न में से सबसे उपयुक्त विकल्प चुनें)

(A) केवल गाढ़ा चारा और मक्का

(B) केवल मोटा और गाढ़ा चारा ✓

(C) केवल मक्का और जौ मिश्रित ✓

(D) मक्का, जौ, बाजरा इत्यादि

(E) अनुत्तरित प्रश्न

73. Which Indian state recorded the highest wind capacity during 2022-23 ?

(Choose the most appropriate option from below)

(A) Tamilnadu

(B) Karnataka

(C) Gujarat

(D) Rajasthan

(E) Question not attempted

2022-23 के दौरान किस भारतीय राज्य में उच्चतम पवन क्षमता (विंड कैपेसिटी) दर्ज की गई ?

(निम्न में से सबसे उपयुक्त विकल्प चुनें)

(A) तमिलनाडु

(B) कर्नाटक

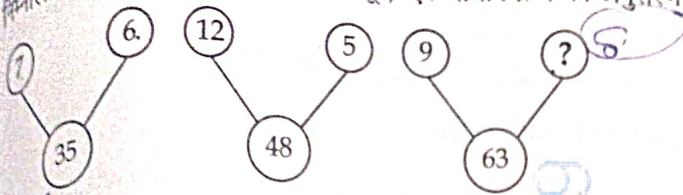
(C) गुजरात

(D) राजस्थान

(E) अनुत्तरित प्रश्न

74. Which is the largest ocean in the world ?
 (A) Arctic Ocean (B) Pacific Ocean (C) Indian Ocean
 (D) Atlantic Ocean (E) Question not attempted
- विश्व में सबसे बड़ा महासागर कौनसा है ?
 (A) आर्कटिक महासागर (B) -प्रशांत महासागर (C) हिंद महासागर
 (D) अटलांटिक महासागर (E) अनुत्तरित प्रश्न
75. वर्तनी की दृष्टि से इनमें से कौन-सा शब्द शुद्ध है ?
 (A) कुमुदिनि (B) कुमुदनी (C) कुमुदिनी
 (D) कुमुदीनी (E) अनुत्तरित प्रश्न
76. Co-founder of Non- Aligned Movement (NAM) was _____
 (A) C. Rajgopalachari (B) Jawahar Lal Nehru (C) Mahatma Gandhi
 (D) Sardar Patel (E) Question not attempted
- गुटनिरपेक्ष आंदोलन (NAM) के सह-संस्थापक थे :
 (A) सी. राजगोपालाचारी (B) जवाहर लाल नेहरू (C) महात्मा गाँधी
 (D) सरदार पटेल (E) अनुत्तरित प्रश्न
77. Which country became the world's first country to make abortion a constitutional right ?
 (Choose the most appropriate option from below)
 (A) Malaysia (B) Poland (C) France
 (D) Holand (E) Question not attempted
- गर्भपात को एक संवैधानिक अधिकार बनाने वाला विश्व का कौन सा प्रथम देश बना ?
 (निम्न में से सबसे उपयुक्त विकल्प चुनें)
 (A) मलेशिया (B) पोलैंड (C) फ्रांस
 (D) हॉलैंड (E) अनुत्तरित प्रश्न
78. Which of the following banks is known as Bankers Bank in India ?
 (A) Indian Overseas Bank (B) Punjab National Bank (C) State Bank of India
 (D) Reserve Bank of India (E) Question not attempted
- निम्नलिखित में से किस बैंक को भारत में बैंकर्स बैंक के नाम से जाना जाता है ?
 (A) इंडियन ओवरसीज बैंक (B) पंजाब नेशनल बैंक (C) भारतीय स्टेट बैंक
 (D) भारतीय रिज़र्व बैंक (E) अनुत्तरित प्रश्न
79. The Rakha Copper Mines are located in _____
 (A) Madhya Pradesh (B) Rajasthan (C) Jharkhand
 (D) Odisha (E) Question not attempted
- राखा कॉपर खदान कहाँ स्थित है ?
 (A) मध्य प्रदेश (B) राजस्थान (C) झारखंड
 (D) ओडिशा (E) अनुत्तरित प्रश्न
80. Which of the following Constitutional Amendments gave constitutional status and protection to the Panchay
 Raj institutions in India ?
 (A) 75th (B) 72nd (C) 73rd
 (D) 74th (E) Question not attempted
- निम्नलिखित में से किस संवैधानिक संशोधन ने भारत में पंचायती राज संस्थाओं को संवैधानिक दर्जा और सुरक्षा प्रदान की ?
 (A) 75वां (B) 72वां (C) 73वां
 (D) 74वां (E) अनुत्तरित प्रश्न

81. In the following question each set of numbers follows a similar pattern, find the missing number (?).
निम्नलिखित प्रश्न में प्रत्येक संख्या का समूह, एक समान क्रम का अनुसरण करता है, तब लुप्त संख्या (?) ज्ञात कीजिए।



- (A) 8
(D) 19
(B) 13
(C) 11
(E) Question not attempted/ अनुत्तरित प्रश्न

82. इनमें से कौन सा विसर्ग संधि का उदाहरण नहीं है ?

- (A) नोरस
(D) उन्नति
(B) निश्चय
(C) दुष्कर
(E) अनुत्तरित प्रश्न

83. Which one of the following Iron-ores known as Iron-Carbonate ?

- (A) Limonite
(D) Magnetite
(B) Haematite
(C) Siderite
(E) Question not attempted

निम्नलिखित में से कौन से लौह-अयस्क को आयरन-कार्बोनेट के रूप में जाना जाता है ?

- (A) लाइमोनाइट
(D) मैग्नेटाइट
(B) हैमेटाइट
(C) सिडेराइट
(E) अनुत्तरित प्रश्न

84. Who is the current Chairperson of Rajasthan Human Rights Commission ?

- (A) Justice Ganga Ram Moolchandani
(C) Justice Shri Ram Chandra Singh Jhala
(B) Justice N.K. Jain
(D) Justice Prakash Tatia
(E) Question not attempted

वर्तमान में राजस्थान मानवाधिकार आयोग का अध्यक्ष कौन हैं ?

- (A) न्यायमूर्ति गंगा राम मूलचंदानी
(C) न्यायमूर्ति श्री रामचंद्र सिंह झाला
(B) न्यायमूर्ति एन.के. जैन
(D) न्यायमूर्ति प्रकाश तातिया
(E) अनुत्तरित प्रश्न

85. Plantation of which of the following trees can help to prevent forest fires in Himalayan region ?

(Choose the most appropriate option from below)

- (A) Tendu
(D) Chir pine
(B) Mahu
(E) Question not attempted
(C) Rhododendron

निम्नलिखित में से कौन सा वृक्ष हिमालयन क्षेत्र में वन की आग को रोकने में सहायक हो सकता है ?

(निम्न में से सबसे उपयुक्त विकल्प चुनें)

- (A) तेन्दू
(D) चीड़ पाइन
(B) माहु
(E) अनुत्तरित प्रश्न
(C) रोहडोडेंड्रन

86. Operation Flood' is associated with _____.

- (A) Red Revolution
(D) Blue Revolution
(B) Green Revolution
(E) Question not attempted
(C) White Revolution

'ऑपरेशन फ्लड' का संबंध है :

- (A) लाल क्रांति से
(D) नीली क्रांति से
(B) हरित क्रांति से
(E) अनुत्तरित प्रश्न
(C) श्वेत क्रांति से

87. In which year was the High Court of Rajasthan established ?
राजस्थान उच्च न्यायालय की स्थापना किस वर्ष हुई ?
- (A) 1951 (B) 1948 (C) 1949
(D) 1950 (E) Question not attempted/ अनुत्तरित प्रश्न
88. Choose the most appropriate indirect form of the given sentence :
"Wait for me at the bridge", said Rahim.
- (A) Rahim requested her to keep waiting for him at the bridge.
(B) Rahim told her to wait for him at the bridge.
(C) Rahim asked to wait her at the bridge.
(D) Rahim said that you have to wait for me at the bridge.
(E) Question not attempted
89. Which of the following tourist centre is located close to Barmer ?
निम्नलिखित में से कौन सा पर्यटन केंद्र बाड़मेर के पास स्थित है ?
- (A) Sam Sand Dunes (B) Kiradu Temples (C) Shergarh Fort
(D) Natanion ki Haveli (E) Question not attempted
- (A) सम के रेते की टीले (B) किराड़ू मंदिर (C) शेरागढ़ किला
(D) नातानीयाँ की हवेली (E) अनुत्तरित प्रश्न
90. Which of the following states has the highest solar power generation capacity ?
निम्न में से किस राज्य में सौर ऊर्जा उत्पादन क्षमता सबसे अधिक है ?
- (A) Kerala (B) Rajasthan (C) Tamilnadu
(D) Karnataka (E) Question not attempted
- (A) केरल (B) राजस्थान (C) तमिलनाडु
(D) कर्नाटक (E) अनुत्तरित प्रश्न
91. Tea is an indigenous crop of _____
चाय किस देश की एक देशी फसल है ?
- (A) India (B) Britain (C) China
(D) Sri Lanka (E) Question not attempted
- (A) भारत (B) ब्रिटिश (C) चीन
(D) श्रीलंका (E) अनुत्तरित प्रश्न
92. Which of the following input devices allows to input alphanumeric characters and special characters into computer ?
निम्नलिखित में से कौन सा इनपुट डिवाइस, वर्णअंकीय पूर्णांश (characters) और विशेष पूर्णांश (characters) को कम्प्यूटर में प्रवेश अनुमति देता है ?
- (A) Keyboard (B) Mouse (C) Monitor
(D) Printer (E) Question not attempted
- (A) की-बोर्ड (B) माउस (C) मॉनीटर
(D) प्रिंटर (E) अनुत्तरित प्रश्न
93. First human to walk on the surface of the moon was :
चंद्रमा के सतह पर चलने वाला पहला मानव :
- (A) Sunita Williams (B) Yuri Gagarin (C) Neil Armstrong
(D) Buzz Aldrin (E) Question not attempted
- (A) सुनीता विलियम्स (B) यूरी गागरिन (C) नील आर्मस्ट्रॉंग
(D) बज़ एलड्रिन (E) अनुत्तरित प्रश्न

96. How many person have held the post of Chairman of NITI Aayog since its formation (till July, 2024)?
निती आयोग के गठन के बाद से अब तक (जुलाई, 2024) कितने व्यक्ति इसके अध्यक्ष पद पर आसीन हुए हैं ?

- (A) 1 (B) 5 (C) 4 2017
(D) 2 (E) Question not attempted/ अनुत्तरित प्रश्न

95. Which of the following Banks was originally named as Imperial Bank of India ?

- (A) Central Bank of India (B) Reserve Bank of India (C) State Bank of India
(D) Punjab National Bank (E) Question not attempted

निम्नलिखित में से किस बैंक का मूल नाम इंपीरियल बैंक ऑफ इंडिया था ?

- (A) सेंट्रल बैंक ऑफ इंडिया (B) भारतीय रिजर्व बैंक (C) भारतीय स्टेट बैंक
(D) पंजाब नेशनल बैंक (E) अनुत्तरित प्रश्न

94. Which schedule was added to the constitution by the 73rd constitutional amendment of 1992 ?

- (A) 11th (B) 6th (C) 7th
(D) 9th (E) Question not attempted

73^{वें} संविधान संशोधन, 1992 से संविधान में कौन-सी अनुसूची जोड़ी गई ?

- (A) 11^{वीं} (B) 6^{वीं} (C) 7^{वीं}
(D) 9^{वीं} (E) अनुत्तरित प्रश्न

97. What is the main function of central processing unit (CPU) in computers ?

- (A) To process data (B) To display data (C) To transmit data
(D) To store data (E) Question not attempted

कम्प्यूटर में सेंट्रल प्रोसेसिंग यूनिट (CPU) का मुख्य कार्य क्या है ?

- (A) आँकड़ों का प्रसंस्करण करना (B) आँकड़ों को प्रदर्शित करना (C) आँकड़ों को सम्प्रेषित करना
(D) आँकड़ों को संग्रहित करना (E) अनुत्तरित प्रश्न

98. In which month is the festival of Kajli Teej celebrated in Bundi ?

- (A) Shravana (B) Phalgun (C) Bhadrapad
(D) Chaitra (E) Question not attempted

किस महीने में कजली तीज का त्योहार बूंदी में मनाया जाता है ?

- (A) श्रावण (B) फाल्गुन (C) भाद्रपद
(D) चैत्र (E) अनुत्तरित प्रश्न

99. Choose the most appropriate option for the passive form of the sentence below :

They rang the church bells as a flood warning

- (A) The church bells are ringing a flood warning.
(B) The church bells were rung as a flood warning.
(C) As a flood warning, the church bells have been rung.
(D) The church bells are rung as a flood warning by them.
(E) Question not attempted

100. What is a Special Economic Zone ?

(Choose the most appropriate option from below)

(A) A unique zone which is subjected to higher taxes and duties.

(B) A special zone created in the capital of India for certain entities.

(C) A specially created area for those with income of 1 crore and above per annum.

(D) A duty free enclave of development and is deemed as foreign territory for the purpose of trade, duties and tariffs.

(E) Question not attempted

विशेष आर्थिक क्षेत्र क्या है ?

(निम्न में से सबसे उपयुक्त विकल्प चुनें)

(A) एक अनूठा क्षेत्र जो उच्च करों और शुल्कों के अधीन है।

(B) भारत की राजधानी में कुछ संस्थाओं के लिए बनाया गया एक विशेष क्षेत्र।

(C) प्रति वर्ष 1 करोड़ या उससे अधिक आय वाले लोगों के लिए बनाया गया एक विशेष क्षेत्र।

(D) विकास का शुल्क मुक्त क्षेत्र और व्यापार, शुल्क और टैरिफ के उद्देश्य से विदेशी क्षेत्र माना जाता है।

(E) अनुत्तरित प्रश्न

101. 'Golden langur' is main fauna of which of the following biosphere reserve ?

(A) Manas

(B) Simlipal

(C) Great Nicobar

(D) Nanda Devi

(E) Question not attempted

निम्नलिखित में से किस जैव आरक्षित क्षेत्र का मुख्य जीव, 'गोल्डन लंगूर' है ?

(A) मानस

(B) सिम्लिपाल

(C) ग्रेट निकोबार

(D) नंदा देवी

(E) अनुत्तरित प्रश्न

102. Which of the following state is known as Molasses basin ?

(A) Tripura

(B) Manipur

(C) Mizoram

(D) Assam

(E) Question not attempted

निम्नलिखित में से कौन सा राज्य मोलेसिस बेसिन के नाम से जाना जाता है ?

(A) त्रिपुरा

(B) मणिपुर

(C) मिजोरम

(D) असम

(E) अनुत्तरित प्रश्न

103. Who was the Chief Commander of the Mughal army in the Battle of Haldighati ?

(A) Khurram Khan

(B) Hakim Khan

(C) Mehman Singh

(D) Man Singh

(E) Question not attempted

हल्दीघाटी के युद्ध में मुगल सेना का मुख्य सेनापति कौन था ?

(A) खुर्रम खान

(B) हाकिम खान

(C) मेहमान सिंह

(D) मान सिंह

(E) अनुत्तरित प्रश्न

104. Which of the following area did not cover in first stage of Indira Gandhi Canal project ?

(A) Barmer

(B) Ganganagar

(C) Hanumangarh

(D) Bikaner

(E) Question not attempted

इंदिरा गांधी नहर परियोजना के प्रथम चरण में निम्नलिखित में से कौन सा क्षेत्र शामिल नहीं था ?

(A) बाड़मेर

(B) गंगानगर

(C) हनुमानगढ़

(D) बीकानेर

(E) अनुत्तरित प्रश्न

105. Given below are two statements:

Statement (I):

Ajmer was an important centre of political awakening and socio-economic activity from the final years of the nineteenth century.

Statement (II):

In 1888, a delegate from Ajmer - Marwars participated in the Allahabad session of the Indian National Congress.

In the light of the above statements, choose the most appropriate answer from the options given below.

- (A) Statement (I) is incorrect but Statement (II) is correct.
(B) Both Statement (I) and Statement (II) are correct.
(C) Both Statement (I) and Statement (II) are incorrect.
(D) Statement (I) is correct but Statement (II) is incorrect.
(E) Question not attempted

निचे दो कथन दिए गए हैं :

कथन (I): 19वीं शताब्दी के अंतिम वर्षों से अजमेर राजनीतिक जागरूकता और सामाजिक-आर्थिक कार्यकलाप का एक महत्वपूर्ण केंद्र बन गया था।

कथन (II): सन् 1888, में भारतीय राष्ट्रीय कांग्रेस के इलाहाबाद सत्र में अजमेर-मारवाड़ के प्रतिनिधियों ने भाग लिया।

उपरोक्त कथनों के आलोक में, नीचे दिए गए विकल्पों में से सबसे उपयुक्त उत्तर चुनें।

- (A) कथन (I) गलत है, लेकिन कथन (II) सही है।
(B) कथन (I) और कथन (II) दोनों सही हैं।
(C) कथन (I) और कथन (II) दोनों गलत हैं।
(D) कथन (I) सही है, लेकिन कथन (II) गलत है।
(E) अनुत्तरित प्रश्न

106. Which of the following file extension is applied to a MS-PowerPoint 365 Presentation by default whenever you save it?

निम्नलिखित में से कौन सा फाइल विस्तार एम.एस. पावरपॉइंट 365 प्रेजेंटेशन पर लागू होता है, जब आप उसे डिफाल्ट से (सेव) सुरक्षित करते हैं?

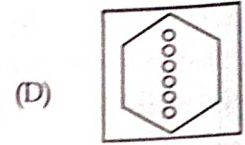

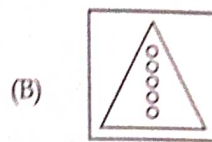
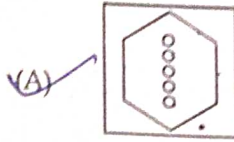
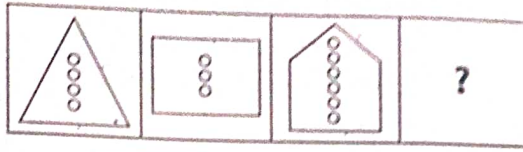
- (A) .xps (B) .pptx (C) .xls
(D) .doc (E) Question not attempted/ अनुत्तरित प्रश्न

107. The wheel of the engine of a train, $\frac{30}{7}$ meters in circumference makes 7 revolutions in 6 seconds, then the speed (in km/hr) of the train is:

रेलगाड़ी के इंजन के पहिए की परिधि $\frac{30}{7}$ मीटर है और वह 6 सेकण्ड में 7 चक्कर लगाती है, तो रेलगाड़ी की चाल (कि.मी/घंटा में) क्या है?

- (A) 27 (B) 18 (C) 20
(D) 25 (E) Question not attempted/ अनुत्तरित प्रश्न

108. The first two figures are related in a certain manner. From the given options choose the correct option establish the similar relation with the third figure to replace question mark ?
 प्रथम, दो आकृतियाँ एक निश्चित ढंग से संबंधित हैं। तीसरी आकृति के साथ समान सम्बन्ध स्थापित करते हुए प्रश्नवाचक चिन्ह के पर रखें और सही विकल्प का चयन कीजिए।



(E) Question not attempted/ अनुत्तरित प्रश्न

109. The artificial satellite which is seen at fixed position when viewed from the same location is called :

- (A) Geostationary satellite (B) Non polar satellite
 (C) Polar satellite (D) Remote sensing satellite
 (E) Question not attempted

वह कृत्रिम उपग्रह जिसे उसी स्थान से अवलोकन करने पर उसे निश्चित स्थिति (फिक्सड पोजीशन) में देखा जाता है :

- (A) भू-स्थैतिक उपग्रह (B) नॉन पोलर उपग्रह
 (C) पोलर उपग्रह (D) दूरस्थ सेंसिंग (Remote sensing) उपग्रह
 (E) अनुत्तरित प्रश्न

110. States Reorganisation Act was passed in :

- (A) 1956 (B) 1952 (C) 1953
 (D) 1955 (E) Question not attempted

राज्य पुनर्गठन अधिनियम कब पारित हुआ था ?

- (A) 1956 में (B) 1952 में (C) 1953 में
 (D) 1955 में (E) अनुत्तरित प्रश्न

111. Integrated Child Development Scheme (ICDS) was started in the year :

- एकीकृत बाल विकास योजना (आई.सी.डी.एस.) किस वर्ष शुरू की गई थी ?
 (A) 1985 (B) 1970 (C) 1975
 (D) 1980 (E) Question not attempted/ अनुत्तरित प्रश्न

112. In how many agro climatic zones, is the state of Rajasthan divided, for the purpose of agriculture ?

- कृषि के उद्देश्य से, राजस्थान राज्य को कितने कृषि जलवायु क्षेत्रों में विभाजित किया गया है ?
 (A) 20 (B) 8 (C) 10
 (D) 12 (E) Question not attempted/ अनुत्तरित प्रश्न

113. 'परोक्ष' में निहित समास है :

- (A) तत्पुरुष (B) अव्ययीभाव (C) कर्मधारय
 (D) बहुव्रीहि (E) अनुत्तरित प्रश्न

114. सूची-I के साथ सूची-II का मिलान कीजिए :

सूची-I

(A) Endorsement

(B) Transliteration

(C) Subordinate

(D) Transformation

सूची-II

(i) लिप्यंतरण

(ii) अनुमोदन

(iii) रूपांतरण

(iv) अधीनस्थ

दिए गए विकल्पों में से सबसे उपयुक्त उत्तर चुनिए :

(A) (a) - (iv), (b) - (ii), (c) - (iii), (d) - (i)

(B) (a) - (ii), (b) - (i), (c) - (iii), (d) - (iv)

(C) (a) - (ii), (b) - (i), (c) - (iv), (d) - (iii)

(D) (a) - (iii), (b) - (iv), (c) - (ii), (d) - (i)

(E) अनुत्तरित प्रश्न

115. इनमें से कौन-सा वाक्य शुद्ध है ?

(A) मैं आपके दर्शन करने आया हूँ।

(B) थोड़ी देर बाद वे वापस लौट आए।

(C) प्रधानाध्यापक लड़के चुनेंगे।

(D) मेरे लिए ठंडी बर्फ और गर्म आग लाओ।

(E) अनुत्तरित प्रश्न

116. 'संस्कार' शब्द में कौन-सा उपसर्ग है ?

(A) स

(B) सन्

(C) सम्

(D) सु

(E) अनुत्तरित प्रश्न

117. "Glimpses of World History", book is written by _____.

(A) Mahatma Gandhi

(B) Jawahar Lal Nehru

(C) Raja Ram Mohan Roy

(D) Sri Aurobindo Ghosh

(E) Question not attempted

"ग्लिम्प्सेस ऑफ वलर्ड हिस्ट्री" पुस्तक किसने लिखी है ?

(A) महात्मा गाँधी

(B) जवाहर लाल नेहरू

(C) राजा राम मोहन राय

(D) श्री अरविंदो घोष

(E) अनुत्तरित प्रश्न

118. What is India's national flower ?

(A) Sunflower

(B) Lotus

(C) Rose

(D) Roheda

(E) Question not attempted

भारत का राष्ट्रीय पुष्प कौनसा है ?

(A) सूर्यमुखी (सूरजमुखी)

(B) कमल

(C) गुलाब

(D) रोहेडा

(E) अनुत्तरित प्रश्न

119. Choose the most suitable word for the phrase "Fit to drink" :

(A) Hard and Saline

(B) Potable

(C) Venial

(D) Contaminated

(E) Question not attempted

120. इनमें से कौन गुणवाचक विशेषण नहीं है ?

(A) प्रत्येक

(B) भला

(C) ऊपरी

(D) सरल

(E) अनुत्तरित प्रश्न

121. This vitamin is an antioxidant, fat soluble and obtained from plant oils :

(A) Vitamin B₆

(B) Vitamin B₁₂

(C) Vitamin C

(D) Vitamin E

(E) Question not attempted

विटामिन जो एण्टी-ऑक्सिडेंट, वसा विलेय है और उसे पौधे के तेल से प्राप्त किया जाता है :

(A) विटामिन बी₆

(B) विटामिन बी₁₂

(C) विटामिन सी

(D) विटामिन ई

(E) अनुत्तरित प्रश्न

122. Which of the following amendment act provided reservation of seats for women, in the Urban Local Bodies
 (A) 74th (B) 65th (C) 68th
 (D) 73rd (E) Question not attempted

शहरी स्थानीय निकाय में महिलाओं, हेतु सीटों के आरक्षण का प्रावधान निम्नलिखित में से किरा संविधान संशोधन अधिनियम द्वारा
 गया ?

- (A) 74^{वें} (B) 65^{वें} (C) 68^{वें}
 (D) 73^{वें} (E) अनुत्तरित प्रश्न

123. In PowerPoint presentation, animation mainly decides.

(Choose the most appropriate option from below)

- (A) how the slides rotate. (B) how the slides appear.
 (C) how the items in the slide appear. (D) how the text looks.
 (E) Question not attempted

पावरपॉइंट प्रेजेंटेशन में एनिमेशन मुख्य रूप से क्या निर्धारित करता है ?

(निम्न में से सबसे उपयुक्त विकल्प चुनें)

- (A) स्लाइड्स कैसे घूमती हैं। (B) स्लाइड कैसे दिखाई देती है।
 (C) स्लाइड में वस्तु कैसे दिखाई देती हैं। (D) टेक्स्ट कैसे दिखाई देता है।
 (E) अनुत्तरित प्रश्न

124. Which of the following is not a social networking website ?

- (A) Hot mail (B) Facebook (C) Snapchat
 (D) X (formerly Twitter) (E) Question not attempted

निम्नलिखित में से कौन एक सोशल नेटवर्किंग वेबसाइट नहीं है ?

- (A) हॉट मेल (B) फेसबुक (C) स्नैप चैट
 (D) X (पूर्व में ट्विटर) (E) अनुत्तरित प्रश्न

125. All the aspects of population are discussed in which of the following subject/science ?

- (A) Cartography (B) Ecology (C) Demography
 (D) Oceanography (E) Question not attempted

निम्नलिखित में से किस विषय/विज्ञान में जनसंख्या के सभी आयामों पर चर्चा होती है ?

- (A) मानचित्रिय (B) पारिस्थितिकी (C) जनसांख्यिकी
 (D) सामुद्रिक विज्ञान (E) अनुत्तरित प्रश्न

126. सरकारी पत्र में अधोलेख के रूप में किस शब्द का प्रयोग किया जाता है ?

- (A) श्रीमान (B) महोदय (C) भवदीय
 (D) सेवा में (E) अनुत्तरित प्रश्न

127. The profit earned after selling an article for Rs. 680 is same as the loss incurred after selling the same article for Rs. 426. Find the half of the 50% of the cost price.

- (A) Rs. 138.25 (B) Rs. 190 (C) Rs. 150
 (D) Rs. 148.25 (E) Question not attempted

एक वस्तु को 680/- रुपये में बेचने पर अर्जित लाभ उसी वस्तु को 426/- रुपये में बेचने पर हुई हानि के समान है। क्रय मूल्य का आधा ज्ञात कीजिए।

- (A) रु. 138.25 (B) रु. 190 (C) रु. 150
 (D) रु. 148.25 (E) अनुत्तरित प्रश्न

128. The characteristic of the computer to store data, information and programs is called :

- (A) Speed
(B) Storage
(C) Accuracy
(D) Question not attempted
(E) Versatility

129. कम्प्यूटर की वह विशेषता, जिसमें प्रोग्राम, सूचना एवं आँकड़ों का संग्रह किया जाता है, वह कहलाती है :

- (A) गति
(B) परिशुद्धता
(C) संग्रहण की क्षमता
(D) अनुत्तरित प्रश्न
(E) बहुमुखिता

129. If the second half of the English alphabet 'after M' is written in the reverse order, which letter will be sixth to the right of the thirteenth letter from the left end ?

यदि अंग्रेजी वर्णमाला के दूसरे आधे अक्षरों को 'M के बाद वाले' अगर उल्टे क्रम में लिखा जाए तो बाएँ छोर से तेरहवें अक्षर के दाईं ओर छठा अक्षर कौन सा होगा ?

- (A) V
(B) H
(C) T
(D) U
(E) Question not attempted/ अनुत्तरित प्रश्न

M N O P Q R S T U V W X Y Z

Z Y X W V U T S R Q P O N M

130. The states created in 1960 were :

- (A) Haryana and Himachal Pradesh
(B) Maharashtra and Punjab
(C) Maharashtra and Gujarat
(D) Manipur and Tripura
(E) Question not attempted

सन् 1960 में सृजित राज्य थे :

- (A) हरियाणा और हिमाचल प्रदेश
(B) महाराष्ट्र और पंजाब
(C) महाराष्ट्र और गुजरात
(D) मणिपुर और त्रिपुरा
(E) अनुत्तरित प्रश्न

131. Which of the following district has highest production of cotton in the state of Rajasthan ?

- (A) Jaisalmer
(B) Jhunjhunu
(C) Bikaner
(D) Sri Ganganagar
(E) Question not attempted

निम्न में राजस्थान राज्य में कपास का सबसे अधिक उत्पादन करने वाला जिला है :

- (A) जैसलमेर
(B) झुंझुनू
(C) बीकानेर
(D) श्री गंगानगर
(E) अनुत्तरित प्रश्न

132. First Global Summit on traditional medicine was organised by the World Health Organisation in which state of India ?

- (A) Gujarat
(B) Kerala
(C) Uttar Pradesh
(D) Karnataka
(E) Question not attempted

विश्व स्वास्थ्य संगठन द्वारा पारंपरिक चिकित्सा पर पहला वैश्विक शिखर सम्मेलन भारत के किस राज्य में आयोजित किया गया ?

- (A) गुजरात
(B) केरल
(C) उत्तर प्रदेश
(D) कर्नाटक
(E) अनुत्तरित प्रश्न

133. In India's context full form of CSIR is :

- (A) Corporate, Social and Industrial Research.
(B) Council of Scientific and Industrial Research.
(C) Council of Science and Innovative Research.
(D) Council of Social and Industry Reproduction.
(E) Question not attempted

भारत के संदर्भ में CSIR का पूर्ण रूप क्या है ?

- (A) कॉर्पोरेट, सोशल एण्ड इण्डस्ट्रियल रिसर्च
(B) काउंसिल ऑफ साइन्टिफिक एण्ड इण्डस्ट्रियल रिसर्च
(C) काउंसिल ऑफ साइन्स एण्ड इन्ोवेटिव रिसर्च
(D) काउंसिल ऑफ सोशल एण्ड इण्डस्ट्रि रिप्रोडक्शन
(E) अनुत्तरित प्रश्न

134. Choose the most appropriate English word for :
घोषणा

- (A) Procession (B) Procuration (C) Proconsul
(D) Proclamation (E) Question not attempted

135. A candidate who gets 20% marks fails by 15 marks but another candidate who gets 42% marks gets 12% more than the passing marks. What is the passing mark ?

20% अंक प्राप्त करने वाला उम्मीदवार 15 अंकों से असफल हो जाता है, लेकिन 42% अंक प्राप्त करने वाला अन्य उम्मीदवार को उस अंकों से 12% अधिक अंक मिलते हैं। पासिंग मार्क्स क्या है ?

- (A) 33 (B) 30 (C) 45
(D) 40 (E) Question not attempted/ अनुत्तरित प्रश्न

136. Which of the following is the largest zinc producing mine in Rajasthan ?

- (A) Kayad Mine (B) Rampur Agucha Mine (C) Sindesar Khurd Mine
(D) Jawar Mine (E) Question not attempted

निम्न में से राजस्थान की सबसे बड़ी (जस्ता) उत्पादक खदान है ?

- (A) कायाद खदान (B) रामपुर अगुचा खदान (C) सिन्देसर खुर्द खदान
(D) जावर खदान (E) अनुत्तरित प्रश्न

137. The first Chairman of NITI Aayog was :

- (A) Dr. Manmohan Singh (B) Sh. Narendra Modi (C) Sh. Arun Jaitely
(D) Sh. Arvind Panagaria (E) Question not attempted

नीति आयोग के प्रथम अध्यक्ष थे :

- (A) डॉ. मनमोहन सिंह (B) श्री. नरेंद्र मोदी (C) श्री. अरुण जेटली
(D) श्री. अरविंद पनगढ़िया (E) अनुत्तरित प्रश्न

138. What is the percentage of reservation for women under MNREGA Act, 2005 ?

(Choose the most appropriate option from below)

मनरेगा अधिनियम 2005, के तहत महिलाओं के लिए आरक्षण का प्रतिशत कितना है ?

(निम्न में से सबसे उपयुक्त विकल्प चुनें)

- (A) 40% (B) 20% (C) 25%
(D) 33% (E) Question not attempted/ अनुत्तरित प्रश्न

139. इनमें से कौन 'यमुना' का पर्यायवाची नहीं है ?

- (A) अर्कजा (B) कृष्णा (C) कालिंदी
(D) ध्रुवन्दा (E) अनुत्तरित प्रश्न

140. Choose the most appropriate word to fill in the blank in the given sentence :

If they _____ that picture lower, people would be able to see it.

- (A) don't hang (B) hung (C) hang
(D) would hang (E) Question not attempted

141. Rhinoceros are found mainly in one of the following National Park/Wildlife Sanctuary :

- (A) Mhadei (B) Kaziranga (C) Periyar
(D) Rajaji (E) Question not attempted

गैंडा मुख्यतः इनमें से किस राष्ट्रीय पार्क/वन्यजीव अभ्यारण्य में पाया जाता है ?

- (A) म्हादेई (B) काजीरंगा (C) पेरीयार
(D) राजाजी (E) अनुत्तरित प्रश्न

142. What should come in the place of question mark(?) in the following alpha-number series ?

निम्नलिखित वर्णक्रमांक शृंखला में प्रश्नवाचक चिन्ह (?) के स्थान पर क्या आना चाहिए ?

X4Z, T9U, P25P, L49K, ?, D169A.

- (A) G121G (B) H121F (C) G81F
(D) H81F (E) Question not attempted/ अनुत्तरित प्रश्न

143. Which city of India hosted 141st International Olympic Committee Session ?

- (A) Chennai (B) Delhi (C) Mumbai
(D) Kolkata (E) Question not attempted

भारत के किस नगर ने 141वाँ अंतर्राष्ट्रीय ओलंपिक समिति सत्र का आतिथ्य किया ?


- (A) चेन्नई (B) दिल्ली (C) मुंबई
(D) कोलकाता (E) अनुत्तरित प्रश्न

144. A person is facing East. Then he turns 135° in clockwise direction and finally turns 180° in anti-clockwise direction. In which direction is he facing finally?

- (A) North-East (B) West (C) South
(D) South-East (E) Question not attempted

एक व्यक्ति पूर्व दिशा की ओर अभिमुख है। उसके बाद वह 135° घड़ी की दिशा में मुड़ता है और अंततः 180° घड़ी के विपरीत दिशा में मुड़ता है। अब वह किस दिशा की ओर मुख करके खड़ा है ?

- (A) उत्तर-पूर्व (B) पश्चिम
(D) दक्षिण-पूर्व (E) अनुत्तरित प्रश्न



145. The movement for a Separate Andhra was called as _____.

- (A) The Region of Andhra Movement (B) The Vishal Andhra Movement
(C) The Vishal Movement (D) The Telugu Movement
(E) Question not attempted

अलग आंध्र के लिए हुए आंदोलन का नाम था :

- (A) आंध्र क्षेत्र आंदोलन (B) विशाल आंध्र आंदोलन
(C) विशाल आंदोलन (D) तेलुगु आंदोलन
(E) अनुत्तरित प्रश्न

146. Choose the most appropriate Hindi translation for the given sentence :

Your anger is justified.

- (A) आपका गुस्सा जायज़ है। (B) आपका गुस्सा ठीक-ठाक है। (C) आपने गुस्सा ठीक किया।
(D) आपका गुस्सा बेबुनियाद नहीं है। (E) Question not attempted

